

Escola: _____

Nome: _____ N.º: ____ Ano: __ Turma: __

VOU FAZER PERCURSOS COM O MICO E A MINA

Tarefa A

Que grande dia: o Mico vai pedir a Mina em casamento!

O Mico sai de casa e tem de recolher todos os presentes que quer levar à Mina.

Primeiro, o **anel**, é o mais importante. Repara no percurso que ele faz, como está na figura:

anel: 2 setas → , 1 seta ↓ e 5 setas → .

Podes utilizar:

Desenha e descreve, como no exemplo, a continuação do percurso para recolher os restantes presentes, pela ordem abaixo, evitando sempre passar pelo gato:

as flores

o pássaro

o queijo

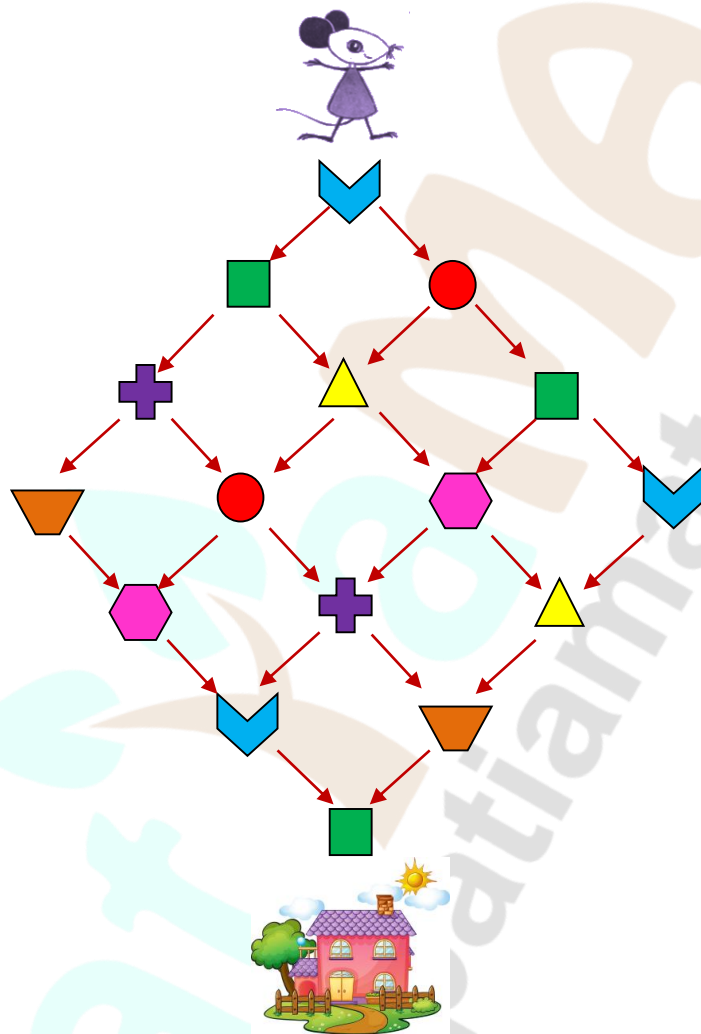
e chega à casa da Mina

Tarefa B

A Mina quer visitar uma amiga na casa azul.

Ajuda a Mina a encontrar o caminho.

Mas atenção: tem de **seguir as setas e não pode passar duas vezes pela mesma forma!**



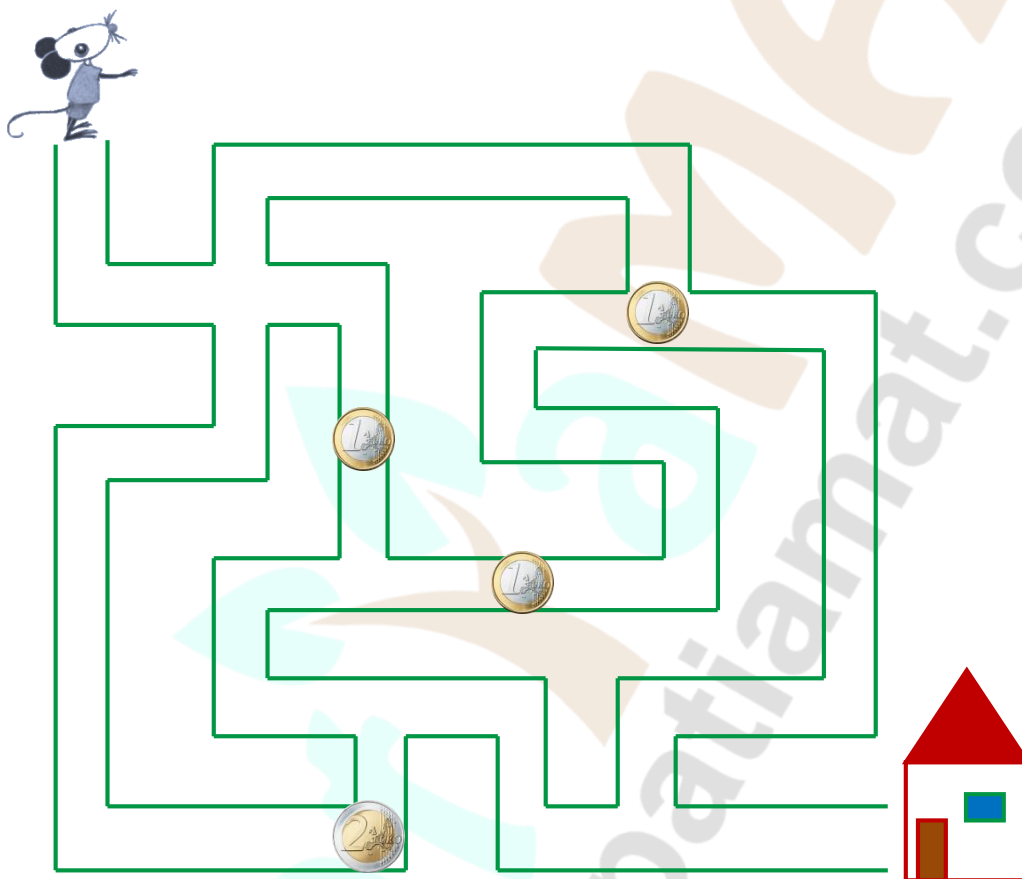
Cobre as setas que indicam o caminho usando um lápis de cor.

Tarefa C

O Mico está cheio de sorte. Quando ia para casa, achou moedas no chão. Pensou logo em comprar uma prenda à Mina!

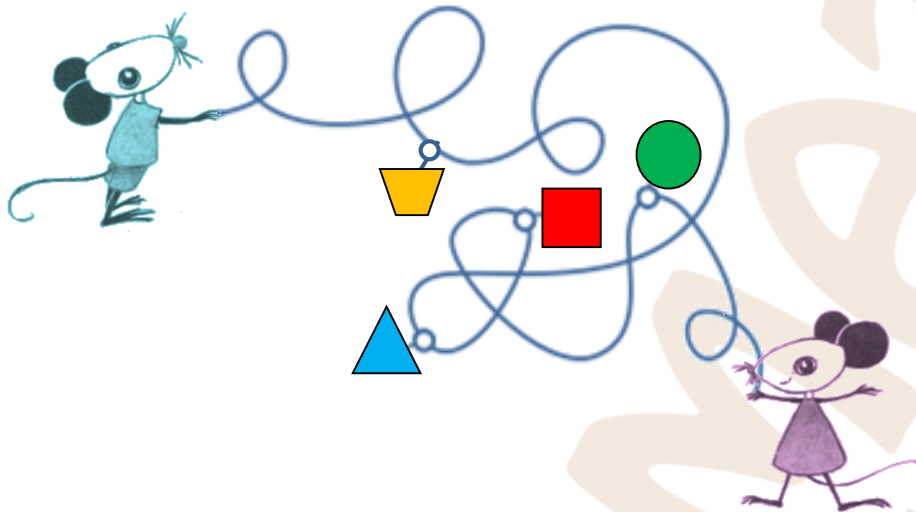
O Mico apanhou exatamente 4€ sem passar duas vezes pelo mesmo caminho.

Traça, na figura, o percurso que seguiu.



Tarefa D

O Mico e a Mina seguram uma corda, com peças penduradas.



A corda está muito enrolada e eles esticam-na. Mas as peças caem.

És capaz de voltar a colocar as peças nos seus lugares, pela mesma ordem?



Ilustrações: Maria Clara Maia