

Escola: _____

Nome: _____ N.º: ____ Ano: __ Turma: __

AS CAIXAS SÃO FÁCEIS DE ARRUMAR!

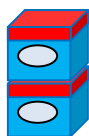
O Lourenço é muito desarrumado e por isso tem vergonha de convidar os amigos para brincarem no seu quarto.

A mãe do Lourenço teve uma ideia: arranjar caixas bonitas para arrumação, cada uma para um tipo de objetos ou roupa. Assim, é mais fácil arrumar e o quarto parece muito mais bonito.

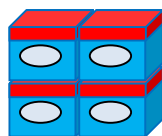
O Lourenço está entusiasmado e já começou a decorar as caixas. Em cada uma, cola um rótulo para saber o que contém.

Começou no dia 1 de setembro e, em cada dia, completa e arruma sempre o mesmo número de caixas.

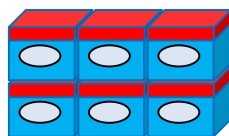
Observa: cada figura mostra as caixas arrumadas, ao fim de cada dia, desde que o Lourenço começou.



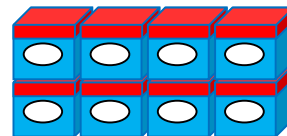
Dia 1



Dia 2



Dia 3



Dia 4

1. Desenha a figura que representa as caixas arrumadas no fim do dia 5.

2. Quantas caixas arruma o Lourenço, em cada dia?

3. Continua a preencher a tabela:

Dia	Número de caixas
1	2
2	4
3	
4	
5	
6	
7	

4. Continuando o mesmo padrão, descobre quantas caixas estarão arrumadas no fim do mês de setembro. Explica como pensaste.

5. No fim de um certo dia de setembro, o Lourenço contou 15 caixas arrumadas. Achas que contou bem o número de caixas? Porquê?
